




# Текстуални задаци- вежбање

 Веверица је сакупила 12 лешника. Пронашла је још 5 лешника.  
Колико лешника сада има веверица?


Одговор: \_\_\_\_\_

 Лисица је у шуми пронашла 17 јабука. Појела је 4 јабуке.  
Колико јабука јој је остало?


Одговор: \_\_\_\_\_

 Зец је имао 11 шаргарепа. Пријатељ му је донео још 6 шаргарепа.  
Колико шаргарепа сада има зец?


Одговор: \_\_\_\_\_

 Сова је видела 15 мишева на ливади. 3 миша су побегла у рупу.  
Колико мишева је остало на ливади?


Одговор: \_\_\_\_\_

 Веверица је имала 18 жирова. Сакрила је 6 жирова у рупу дрвета.  
Колико жирова јој је остало?


Одговор: \_\_\_\_\_

 Меда је пронашао 13 малина. Касније је нашао још 5 малина.  
Колико малина сада има меда?


Одговор: \_\_\_\_\_

 Јелен је на пропланку видео 16 птица. 4 птице су одлетеле.  
Колико птица је остало на пропланку?


Одговор: \_\_\_\_\_

 Зец је убрао 14 детелина. Путем је појео 3 детелине.  
Колико детелина му је остало?

Одговор: \_\_\_\_\_

 Лисица је сакрила 12 ораха. Касније је пронашла још 7 ораха.  
Колико ораха сада има лисица?

Одговор: \_\_\_\_\_

 Веверица је имала 19 семенки. 5 семенки је појела.  
Колико семенки јој је остало?

Одговор: \_\_\_\_\_