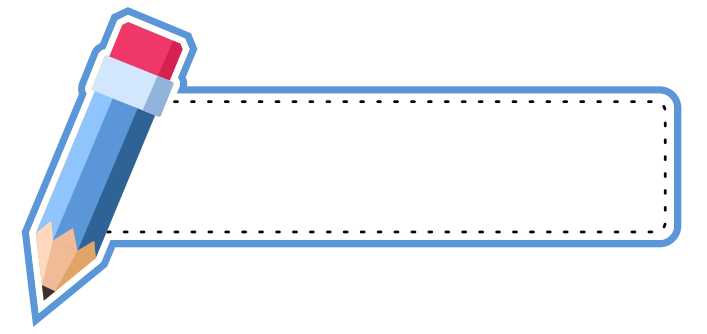


Сабирамо и одузимамо до 5



1. На основу слике запиши израз и израчунај:

○ ○ ● ● $_ + _ = _$

○ ○ ○ ● $_ + _ = _$

○ ○ ○ ⊘ ⊘ $_ - _ = _$

○ ⊘ ⊘ ⊘ $_ - _ = _$

2. Израчунај:

$3 + 1 = _$ $1 + 4 = _$ $3 - 1 = _$ $5 - 4 = _$

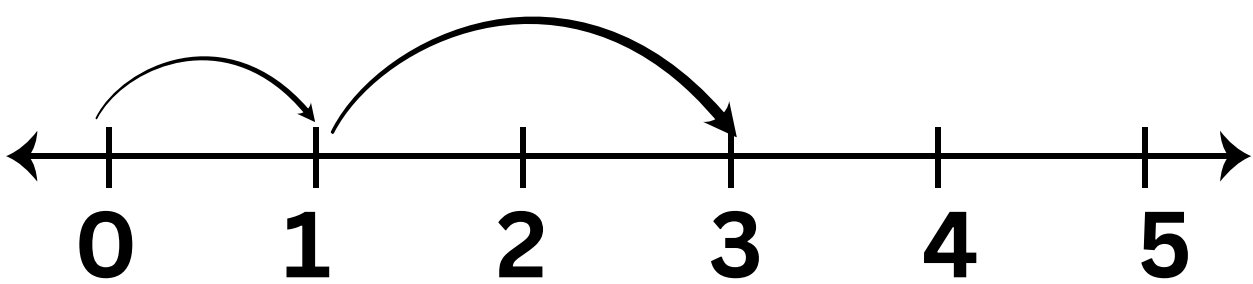
$2 + 0 = _$ $2 + 3 = _$ $2 - 0 = _$ $4 - 4 = _$

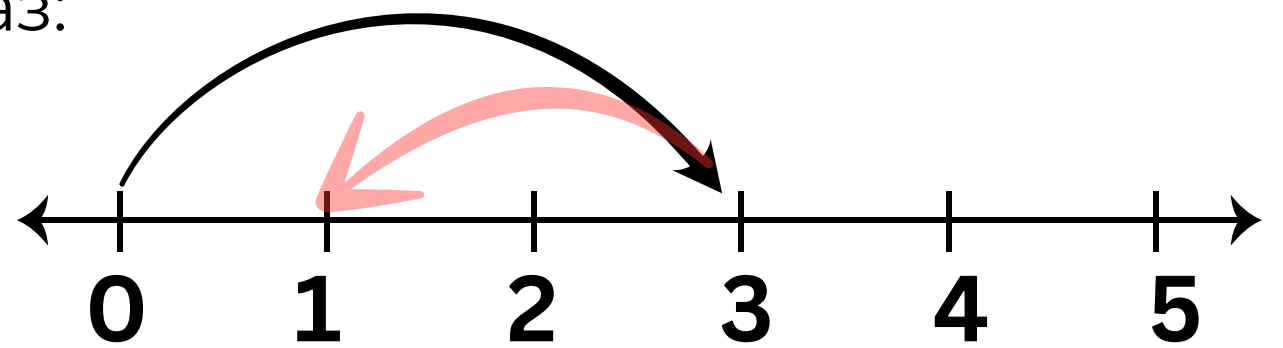
3. Напиши претходник и следбеник бројева:

$_ , 1$ $_ , 2$ $_ , 3$ $_ , 4$

$3 , _$ $0 , _$ $4 , _$ $1 , _$

4. Погледај бројевну праву и запиши израз:





5. Саша је имао 2 кликера. Од баке је добио још 3. Колико кликера сада има Саша?

Одговор: _____

Следбенику броја 2 додај претходник броја 3.
Напиши израз и израчунај:

Уради бонус
задатак!
Није обавезан!

