










1. Упиши одговарајући број.

				
<input type="text"/>	<input type="text"/>	<input type="text"/>	<input type="text"/>	<input type="text"/>

2. Доцртај куглице да добијеш тачан број:

			
<input type="text" value="3"/>	<input type="text" value="2"/>	<input type="text" value="4"/>	<input type="text" value="5"/>



3. Упиши бројеве који недостају: :

<input type="text" value="1"/>	<input type="text"/>	<input type="text"/>	<input type="text" value="4"/>	<input type="text"/>
<input type="text" value="5"/>	<input type="text"/>	<input type="text"/>	<input type="text"/>	<input type="text" value="1"/>

4. Упиши знак <, > или = :

<input type="text" value="3"/> ○	<input type="text" value="2"/> ○	<input type="text" value="5"/> ○	<input type="text" value="1"/> ○	<input type="text" value="1"/> ○	<input type="text" value="4"/> ○	<input type="text" value="5"/> ○	<input type="text" value="5"/> ○
<input type="text" value="4"/> ○	<input type="text" value="2"/> ○	<input type="text" value="1"/> ○	<input type="text" value="3"/> ○	<input type="text" value="3"/> ○	<input type="text" value="3"/> ○	<input type="text" value="4"/> ○	<input type="text" value="5"/> ○

5. Распореди 5 кликера на два различита начина:

	<input type="text"/>	<input type="text"/>
	<input type="text"/>	<input type="text"/>