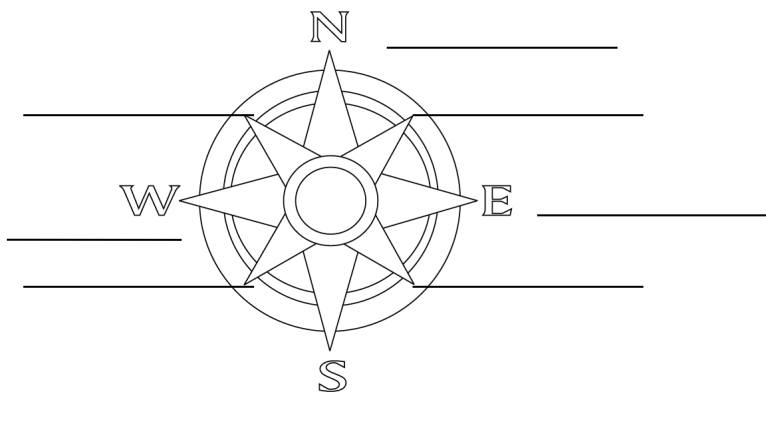


Strane sveta, plan, karta, razmera

1. Pored oznake na engleskom jeziku napisi glavne strane sveta i nazive sporednih strana sveta.



8p

2. Šta je vidikova linija? _____ 2p

3. Kako se zove sprava koja nam pomaže da odredimo strane sveta? _____ 1p

4. Navedi tri načina orijentisanja u prirodi: _____ 3p

5. Planovi se crtaju iz: a) ptičije perspektive b) žablje perspektive *zaokruži* 1p

6. Šta je razmera? _____ 2p

7. Zašto ljudi prave planove naselja? _____ 2p

8. Nacrta plan po uputstvu:


5p

- Nacrta na planu dve ulice koje prave rasrnicu
- Na zapadu nacrta reku
- Na istoku nacrta oznaku za dom zdravlja
- Na severu plana nacrta oznaku za poštu
- Na jugu nacrta oznaku za crkvu


9. Koja je razlika između geografske karte i plana?

3p


10. Oboj pravougaonike bojama koje koristimo na geografskoj karti:




vode



ravnice



državne granice



planine

2p